

CHAP 2 : LA FRANCE : DYNAMIQUES DEMOGRAPHIQUES, INEGALITES SOCIO-ECONOMIQUES.

- Montrez que ces deux photos illustrent des dynamiques démographiques et des inégalités socio-économiques en France :

Photos du manuel p 346-347

Les quais de Seine à Paris, en Ile-de-France :



Sur un marché à Lauzerte, dans le Tarn-et-Garonne, en Occitanie :



Empty dashed box for student response.

Pbq : Comment les dynamiques démographiques et économiques françaises impactent-elles les territoires ?

I. UNE CROISSANCE DEMOGRAPHIQUE A PLUSIEURS VITESSES.

A. Une population française dynamique mais vieillissante.

→ Une croissance démographique persistante mais ralentie :

Manuel p 352

- × **Peuplée de millions de personnes** (dont millions en métropole et millions entre outre-mer, elle est le **pays le plus peuplé d'Union européenne** (après, qui compte près de 83 millions d'habitants) et le 20ème pays le plus peuplé au monde.

Article de presse du journal Le Monde du 15/01/2020 + Vidéo <https://www.cnews.fr/france/2020-01-14/fecondite-stable-mais-insuffisante-solde-naturel-historiquement-bas-mariages-en>

- × Si elle a depuis longtemps fini sa transition démographique, la France a **longtemps présenté l'originalité d'avoir une natalité en Europe.**

Mais depuis, **l'indice de fécondité est en baisse** : il se situe autour deenfant par femme.

- × La France fait donc aujourd'hui face au **ralentissement de sa croissance démographique** :

1. Après avoir noté la définition de **solde naturel***, vous reporterez sa valeur pour l'année 2019 :

.....
.....

2. Comment expliquer la baisse de la natalité ?

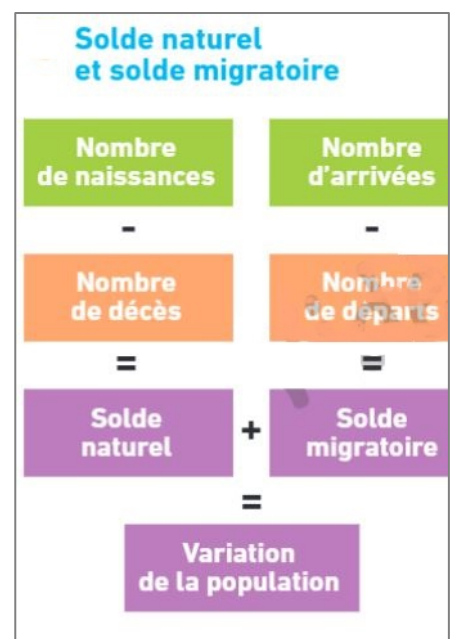
.....
.....
.....

3. Quelle devrait cependant être l'évolution de la mortalité dans les années à venir ? pour quelle(s) raison(s) ?

.....
.....
.....
.....
.....

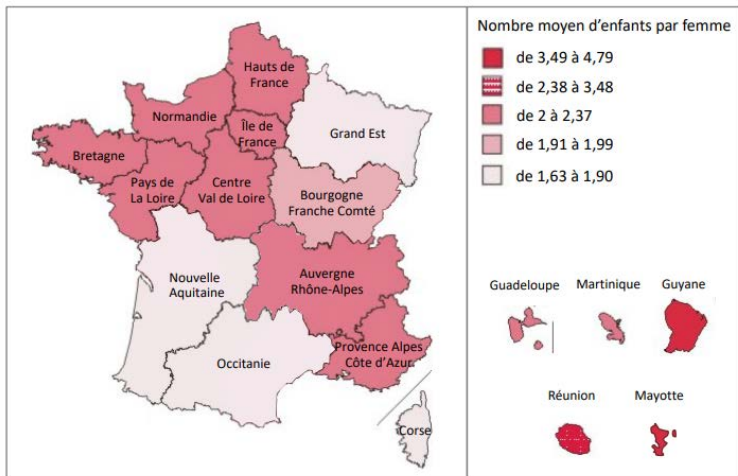
4. De quoi devrait de plus en plus dépendre l'accroissement de la population française dans les années à venir ? Définissez le terme à l'aide du **lexique p 352**.

.....
.....
.....
.....
.....



⇒ Les dynamiques démographiques résultent donc de la **combinaison du solde naturel et du solde migratoire**.

× La fécondité est cependant **contrastée en fonction des régions** françaises :



– La fécondité est la plus élevée en

– Elle est plus forte que la moyenne nationale dans le quart et, dans le quart du territoire.

– En revanche, elle est plus faible que la moyenne nationale dans le quart et dans le quart du territoire.

➔ **Un vieillissement croissant mais inégal :**

× **De plus en plus de seniors :**

Doc 2 p 353 : Part des 65 ans et plus :

En 2018 :%

En 2050 :%

× Ce vieillissement est **variable selon les territoires** :



En croisant **cette carte avec la carte 4 p 351**, dans quel(s) type(s) d'espaces se concentrent principalement les personnes de 65 ans et plus ?

.....

➔ **Les défis liés au vieillissement :**

× Vidéo « La France face au défi du vieillissement de sa population », France 24, 7 février 2020 (du début jusqu'à 2.24 mn) :

<https://www.boursorama.com/videos/actualites/la-france-face-au-defi-du-veillissement-de-sa-population-e4dd5d10ec29df892161e6d7119ce5bd>

Quels défis à relever ?

.....

- × Mais la croissance du nombre de seniors constitue aussi une opportunité : **la « silver économie » est en plein développement.**

Vidéo : « La silver économie : une filière en plein essor », France 2, 2018 (3.41 mn)

<https://www.youtube.com/watch?v=4kOcuK4Q2KQ>

Définissez la silver économie et donnez-en quelques exemples.

.....
.....
.....

En quoi est-ce un secteur stratégique de l'économie ?

.....
.....
.....

B. Une France entre « vides » et « pleins » : les contrastes du peuplement.

➔ **METHODE : REALISER UN CROQUIS A PARTIR D'UN TEXTE.**

**SUJET : « Les dynamiques du peuplement en France métropolitaine »
p 374-375**

Répondre aux questions suivantes pour compléter le croquis.

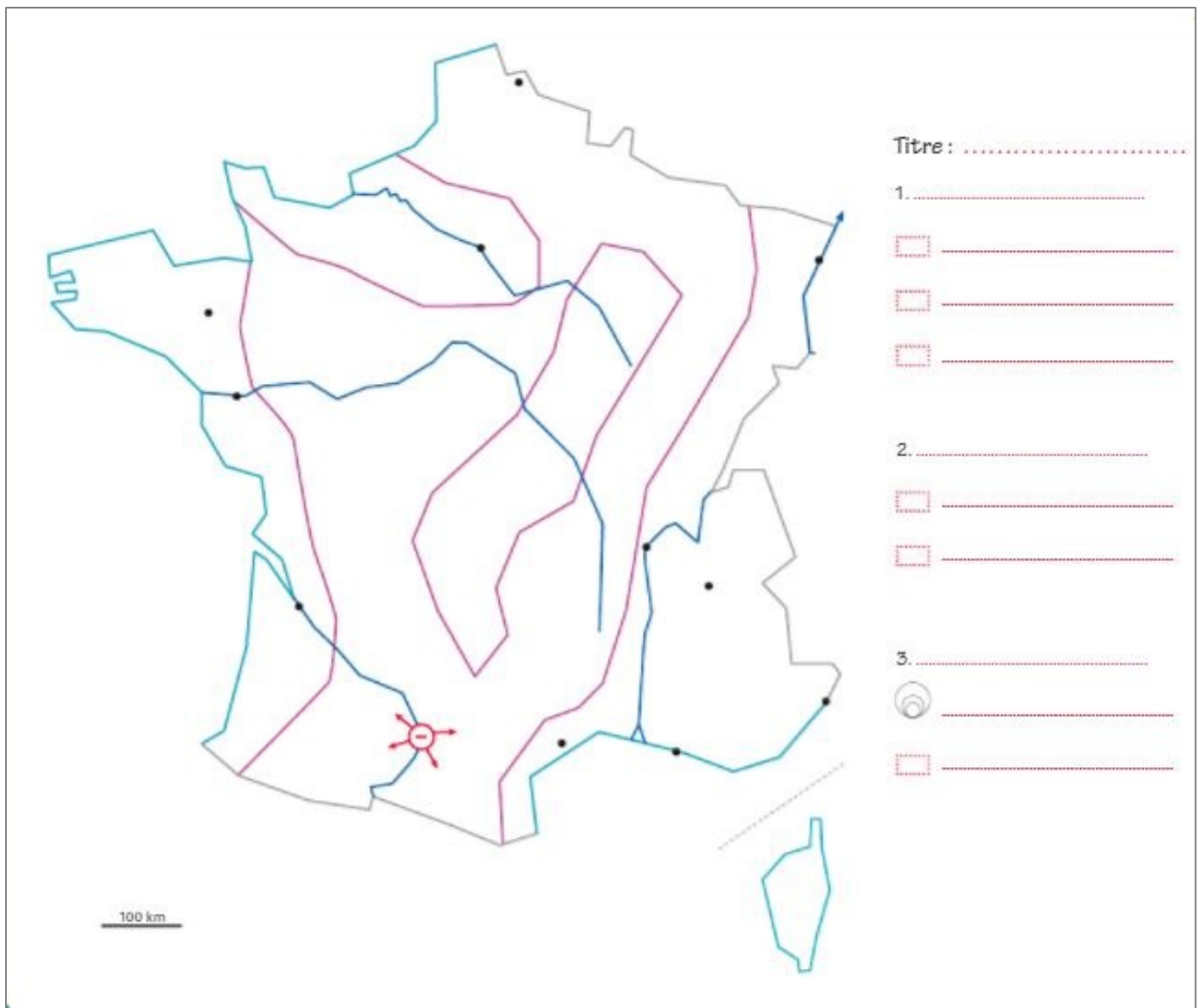
1. Relisez le sujet et entourez la bonne réponse. S'agit-il de :
 - a. Comprendre quelles sont les différences de densité en France ?
 - b. Etudier les évolutions de la densité de population en France ?
 - c. Analyser pourquoi la diagonale du vide est peu peuplée ?

Quel mot clé du sujet le montre ?.....

2. Lisez le texte et complétez le tableau suivant :

Evolution du peuplement :	Nom des régions et/ou types d'espace concernés (villes / espaces périurbains / espaces ruraux)
Espaces constamment attractifs :	- - -
Espaces parfois peu peuplés mais très attractifs depuis une trentaine d'années :	- -
Espaces en déclin démographique :	- -

3. Le plan des 3 parties de la légende du croquis est donné par le sujet mais aussi par les 3 parties du tableau ci-dessus. Reportez-le dans la légende du croquis en page ci-contre.
4. Ensuite, détaillez la légende en classant les éléments suivants dans les différentes parties du plan :
 - Cœur des grandes agglomérations
 - Etalement urbain et périurbanisation
 - Régions littorales
 - Régions rurales autrefois en déclin mais désormais en forte croissance
 - Autres régions constamment attractives (Est, Région parisienne)
 - Régions rurales qui continuent à se dépeupler
 - Agglomérations
5. Choisissez les figurés et reportez-les en légende. Pour le cœur des agglomérations et l'étalement périurbain, le choix de figuré est déjà fait (voir la ville de Toulouse sur le fond de carte) : réutilisez ces choix. Pour les choix de figuré, pensez à réutiliser la fiche méthode sur le croquis du chapitre de géo du Thème 1.
6. Réalisez le croquis en respectant vos choix de figurés. Puis pensez à la nomenclature (noms) en respectant la méthode déjà vue dans le thème 1.
7. Terminez votre travail en complétant le titre.



➔ LE RESUME DU COURS :

A complétez à l'aide du Manuel p 352

Une des contrastes entre les « vides » et les « pleins »

• La France présente de forts contrastes entre des régions et des espaces de . Le , les régions et les grandes vallées sont beaucoup plus peuplés que la moyenne nationale, tandis que les espaces de faible densité se localisent dans les zones de , dans les massifs (, et – à une autre échelle – en) et dans quelques régions (Champagne...). Cette « France du » représente un environ du territoire : les densités y sont de l'ordre de hab/km² et 7 400 communes sont « hors de l'influence des pôles ».

• Ces contrastes, très anciens, ont été renforcés par la transition urbaine* et un important dès la fin du XIX^e siècle : la population est majoritaire depuis 1931. De nos jours, les aires urbaines regroupent plus de % de la population française et occupent les du territoire national.

• Cette concentration de la population peu à peu, voire s'inverse. D'une part, l'étalement urbain crée un espace périurbain sur près du du territoire national. D'autre part, depuis 2000, des communes rurales isolées connaissent un : télétravail grâce à , quittant les villes, amélioration des réseaux de transport... La France du se donc progressivement.